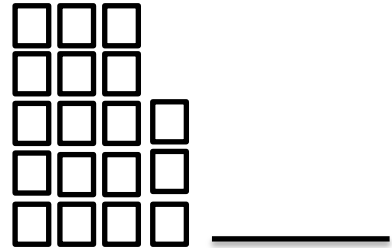
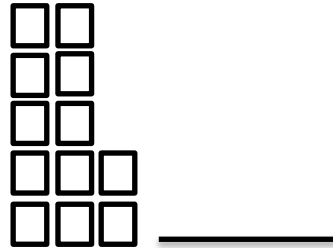
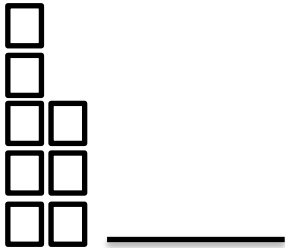
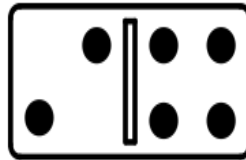


### Getalle, Bewerkings en Verwantskappe

1. Hoeveel ?



2. Kyk na die domino.



a) Skryf die getal kolletjies wat jy sien. \_\_\_\_\_


b) As jy die getal kolletjies verdubbel, wat sal jou antwoord wees? \_\_\_\_\_

3. Kom ons rangskik die getalle van groot na klein.

19    23    29    11    32    26    17

\_\_\_\_\_

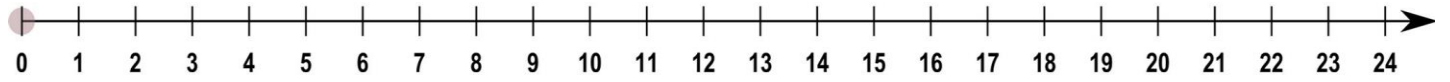
4. Antwoord die som hieronder. Gebruik die getallelyn om die bewerking aan te dui.



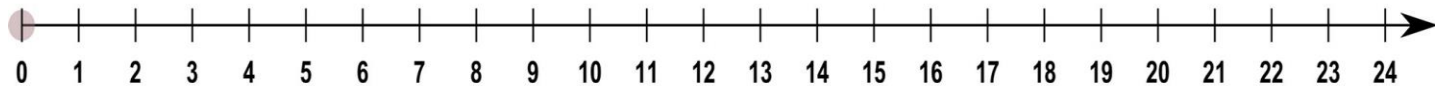
$3 + 4 =$  \_\_\_\_\_

# Getalle, Bewerkings en verwantskappe

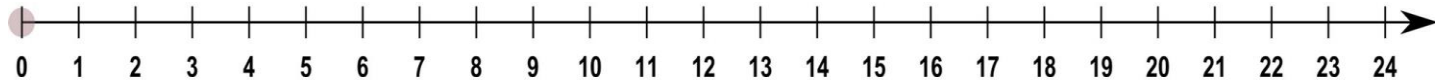
5. Gebruik die getallelyn om te wys hoe jy die som sal uitwerk.  $5 + 4 + 2 =$  \_\_\_\_\_



6. Wys 4 groepe van 3 op die getallelyn.



7. Wys die som op die getallelyn en vul die antwoord in.  $16 - 3 =$  \_\_\_\_\_



8. Breek 13 op in tiene en ene. \_\_\_\_\_

9. Gebruik  $\textcircled{2}$   $\textcircled{10}$  om 'n 2-syfergetal te maak.

Skryf die getal neer en die getalgesin langsaan.

\_\_\_\_\_

## Getalle, Bewerkings en Verwerkings

10. Kyk na die table hieronder. Antwoord dan die vrae wat volg.

11	12	13	14	15	16	17	18	19	20
21	22	23	24	25	26	27	28	29	30
31	32	33	34	35	36	37	38	39	40
41	42	43	44	45	46	47	48	49	50

- (a) Omkring die getal wat voor 25 staan.
- (b) Omkring die getal wat voor 30 staan.
- (c) Omkring die getal wat voor 36 en 38 staan.
- (d) Omkring die getal wat na 19 staan.
- (e) Omkring die getal wat 1 meer as 44 is
- (f) Omkring die getal wat 1 minder as 50 is.

11. Verdeel 9 koekies gelykop tussen 3 seuns.



Elke vriend kry \_\_\_\_\_ koekies.

12. Zuki en Johan het 18 kryte. As hulle dit gelykop tussen die twee van hulle verdeel, hoeveel kry elkeen?

Werkspasie:




Elkeen kry \_\_\_\_\_ kryte.

## Getalle, Beweking en Verwantskappe

13. Mamma koop 12 eiers teem R12. Sy betaal met ñ R20. Hoeveel kleingeld moet sy kry?

Werkspasie:



Sy kry R \_\_\_\_\_ kleingeld

14. Pieter koop 2 lekkers, 1 kougom en 1 stokkie lekker.



PRYSLYS

Stokkie lekker – 10c

Lekkers (elk) – 5c

Kougom – 10c



(a) Hoeveel sal die lekkers saam kos? \_\_\_\_\_

(b) Hoeveel kleingeld moet hy kry as hy met 50c betaal? \_\_\_\_\_

Werkspasie:




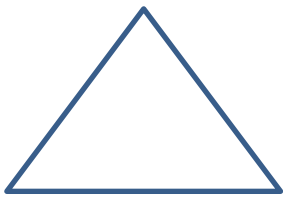
# Patrone, Funksies en Algebra

I. Voltooi die getalpatrone hieronder.

(a)	20	22				30	32	34	36
(b)	29				25			22	
(c)			15			30	35	40	
(d)				40		60	70		90

## Ruimte en Vorm

I. Pas die vorm by die prentjie van die voorwerp.



## Ruimte en Vorm

2. Omkring die regte blokkie om die sin waar te maak.


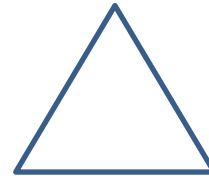

Die bal kan

gly.

rol.



3. Pas die prent van die 3D voorwerp by 'n 2D vorm.



4. Trek 'n lyn op die prentjie om simmetrie te wys.



5. Posisie. Omkring die regte woord/e om die sin waar te maak.



(a) Die albasters is in / langs van die sak.

(b) Die hond is links / regs van die pot.

(c) Die kat is langs van / regs van die pot.

